





# Jour 3

## Révisions du son (è)

Quelles graphies du son (è) connais-tu? è ê ai ei et

### Coche la case quand on entend (è)

☐

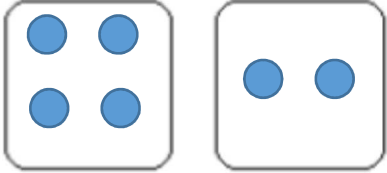
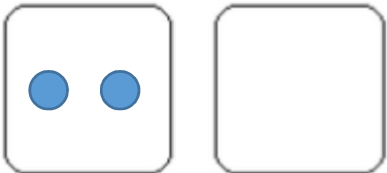
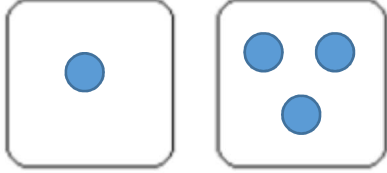
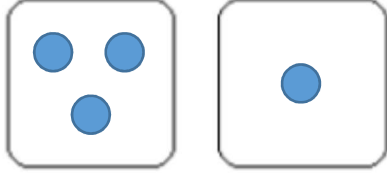
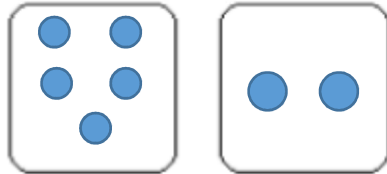
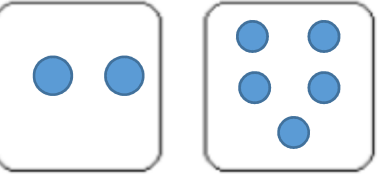
			
<input checked="" type="checkbox"/> <input type="checkbox"/> <input checked="" type="checkbox"/>	<input type="checkbox"/> <input checked="" type="checkbox"/> <input type="checkbox"/>	<input type="checkbox"/> <input type="checkbox"/> <input checked="" type="checkbox"/> <input type="checkbox"/>	<input type="checkbox"/> <input type="checkbox"/> <input checked="" type="checkbox"/>

### Ecris le mot correspondant à l'image.

un chalet, treize, un balai, une baleine, un dromadaire, un robinet, du lait, une chaine

	un balai		un chalet
	un robinet		une baleine
	un dromadaire		une chaine
	du lait	13	treize

				
---	---	---	--	---

$4 + 2 = \dots 6$ 	$2 + 4 = \dots 6$ 
$1 + 3 = \dots 4$ 	$3 + 1 = \dots 4$ 
$5 + 2 = \dots 7$ 	$2 + 5 = \dots 7$ 

**Comment s'appelle ta ville ?** → Elle s'appelle EVRY.

**Comment s'appelle le maire de ta ville, élu dimanche dernier ?** → Le maire s'appelle Stéphane BEAUDET.

**Pourquoi les adultes doivent se cacher pour voter ?** → Ils se cachent pour que personne ne sache pour qui est-ce qu'ils votent.

**Pourquoi doivent-ils signer un registre ?** → Ils doivent signer le registre pour que la personne ne puisse pas voter 2 fois.

**Pourquoi doivent-ils prendre toutes les feuilles et une enveloppe posées sur la table ?** → Ils doivent tout prendre pour que personne ne sache sa préférence de vote.

**Trouve avec tes parents une action que le maire doit faire pour sa ville.** → Le maire doit prendre des décisions concernant l'éducation des jeunes, la propreté de la ville...