


Jour 2

Relie les nombres en chiffres aux nombres en lettres

28	○	○	dix-neuf
42	○	○	quatorze
36	○	○	vingt-huit
54	○	○	zéro
14	○	○	quarante-deux
0	○	○	trente-six
22	○	○	cinquante-quatre
19	○	○	vingt-deux

Ecris la case où Gribouille arrive


- Je pars de 8, j'avance de 2, j'arrive à ...10...
- Je pars de 5, je recule de 3, j'arrive à ...2....
- Pour aller de 5 à 7, il faut avancer de ...2.....
- Pour aller de 4 à 1, il faut reculer de ...3.....



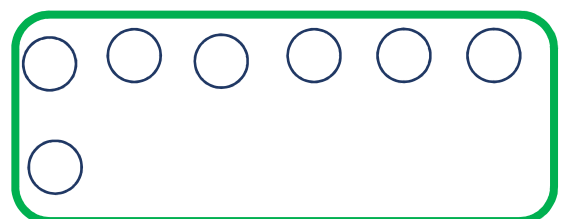
Résous l'enquête

Dans la boîte, il y a 25 bonbons : des nougats et des caramels.
Sophie compte 18 caramels.

Combien de nougats y a-t-il dans la boîte ? $\rightarrow 25 - 18 = 7$



caramels



nougats