


Jour 15

Phonologie

- Lire la fiche du son (bl,cl,fl,gl,pl)(dans le cahier violet)
- Exercices :

 Coche la case quand tu entends les sons demandés.

bl



cl



fl




gl



pl



J'écris 

9



Ecris les syllabes manquantes

be glo sse cla



un



une



Ecris les syllabes manquantes.

mme fla ffe si



une



il

- Dictée de syllabes et de mots:
- pla, flu, ble, miracle, globe, flèche

Lecture

- Lire l'histoire de Taoki p 70 p 71

Production d'écrit

- Écris ce que Taoki et ses amis vont voir en Afrique selon toi.

Calcul mental

- Dictée des calculs et votre enfant ne doit écrire que le résultat.
- $10+5$; $10+8$; $10+3$; $10+4$; $10+0$; $10+10$; $10+6$

Numération

Ajouts d'unités à 10

2 Complète.

$10 + 3 = \dots\dots\dots$

$10 + 7 = \dots\dots\dots$

$10 + 1 = \dots\dots\dots$

$10 + 9 = \dots\dots\dots$

$10 + 6 = \dots\dots\dots$

$10 + 4 = \dots\dots\dots$

3 Complète.

$10 + \dots\dots\dots = 11$

$10 + \dots\dots\dots = 12$

$10 + \dots\dots\dots = 15$


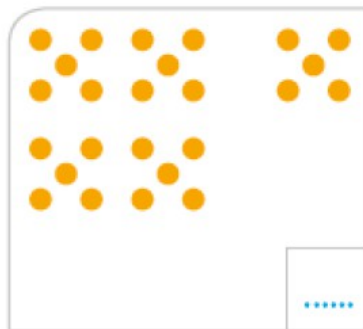

$10 + \dots\dots\dots = 16$

$10 + \dots\dots\dots = 19$

$10 + \dots\dots\dots = 10$

Vers les dizaines

3 Écris le nombre de points.



4 Complète.

$10 + 1 = \dots\dots\dots$

$20 + 5 = \dots\dots\dots$

$20 + 7 = \dots\dots\dots$

$20 + 2 = \dots\dots\dots$

$20 + 9 = \dots\dots\dots$

$30 + 2 = \dots\dots\dots$

$30 + 9 = \dots\dots\dots$

$30 + 5 = \dots\dots\dots$

$30 + 8 = \dots\dots\dots$

Questionner le monde

- Rappel de la leçon : **Vivant non vivant**
- Les êtres vivants ont besoin d'eau et de nourriture. Ils naissent, ils grandissent, ils se reproduisent puis ils meurent.
- Lien vidéo éducative :
- <https://youtu.be/SA9sSA8Lkk0?list=TLPQMjQwMzIwMjCwpZuY-xGPHQ> Vivant et non vivant, exercice en vidéo.
- Exercices :
- Réponds aux questions :
- Quelles sont les choses qui bougent ?
- Quelles sont les choses qui ne bougent pas ?
- Parmi toutes ces choses, lesquelles ne sont pas vivantes ?
- Lesquelles sont vivantes ?
- Explique comment tu sais lesquelles sont vivantes et non vivantes ?



